

## Задания на определение последовательности географических событий

**Задание.** Расположите в логической последовательности явления, объекты, процессы и т. д. Затем последовательность расположения букв перенесите в бланк ответов.

**1. Установите последовательность размещения слоев атмосферы, начиная с самого нижнего:**

- а) ионосфера
- б) тропосфера
- в) стратосфера
- г) мезосфера

**2. Установите последовательность размещения с юга на север водохранилищ нашего края:**

- а) Старобешевское
- б) Кураховское
- в) Краснооскольское
- г) Старокрымское

**3. Установите последовательность размещения объектов, которые характеризуют географическое положение Донецкого края в последовательности с запада на восток:**

- а) высота 195 м в Краснолиманском районе
- б) точка, вблизи села Камышеваха Великоновоселковского района
- в) вблизи села Верхний Кут Шахтёрского района
- г) село Белосарайская Коса Першотравневого района

**4. Установите последовательность размещения с севера на юг месторождений полезных ископаемых осадочного происхождения:**

- а) Часоваярское (огнеупорные глины)
- б) Славянское (каменная соль)
- в) Резниковское (фосфориты)
- г) Петрово-Гнутовское (флюориты)

**5. Установите последовательность размещения с севера на юг месторождений полезных ископаемых осадочного происхождения:**

- а) Часоваярское (огнеупорные глины)
- б) Славянское (каменная соль)
- в) Еленовское (песчаник)
- г) Белосарайское (пески строительные)

**6. Расположите перечисленные страны в порядке возрастания естественного прироста населения (на тыс. жителей):**

- а) Аргентина
- б) Австралия
- в) Эфиопия
- г) Эстония

**7. Расставьте страны в порядке увеличения количества часовых поясов в их пределах:**

- а) Бразилия
- б) Франция
- в) Россия
- г) Австралия

**8. Установите последовательность стран по показателю индекса развития человеческого потенциала в порядке увеличения:**

- а) Норвегия
- б) Россия
- в) Франция
- г) Египет

**9. Расставьте страны в порядке увеличения количества часовых поясов в их пределах:**

- а) Бразилия
- б) Канада
- в) Россия
- г) Китай

**10. Расположите страны в порядке уменьшения их доли в мировом производстве продукции машиностроения:**

- а) ФРГ
- б) Япония
- в) США
- г) Канада

**11. Расположите страны по количеству населения в порядке увеличения:**

- а) Германия
- б) Индия
- в) Аргентина
- г) Канада

**12. Расположите страны в порядке увеличения изготовления продукции машиностроения в мире:**

- а) Китай
- б) Боливия
- в) Южная Африка
- г) США

**13. Расположите страны мира в порядке уменьшения объемов внешней торговли с Донецким регионом:**

- а) Италия
- б) Турция
- в) Россия
- г) Египет

**14. Расставьте части гидросферы в порядке возрастания объема содержащейся в них воды:**

- а) реки
- б) озера
- в) многолетняя мерзлота
- г) Мировой океан

**15. Установите последовательность типового плана характеристики физико-географического положения государства:**

- а) физико – географические объекты (формы рельефа, моря, реки, озера)
- б) размещение в климатических поясах
- в) размещение на материке (название, в какой его части)
- г) размещение относительно экватора, начального меридиана (координаты крайних точек)

**16. Расположите данные озера в порядке увеличения их глубины:**

- а) Эйр
- б) Байкал
- в) Ньяса
- г) Мичиган

**17. Расположите города Донецкого края в порядке уменьшения в них продолжительности светового дня в летний период:**

- а) Мариуполь
- б) Славянск
- в) Угледар
- г) Донецк

**18. Расположите города Донецкого края в последовательности с юга на север:**

- а) Енакиево
- б) Угледар
- в) Горез
- г) Докучаевск

**19. Расположите города Донецкого края в последовательности с запада на восток:**

- а) Горловка
- б) Доброполье
- в) Дебальцево
- г) Мариуполь

**20. Расположите названия городов в последовательности нарастания в них восхода Солнца в день весеннего равноденствия:**

- а) Мариуполь
- б) Горез
- в) Донецк
- г) Макеевка

**21. Установите последовательность событий:**

- а) возникновение города Бахмут (Артемовск)
- б) город Сталино переименован в город Донецк
- в) возникновение города Соляное (Славянск)
- г) образование Донецкой области

**22. Расположите в хронологической последовательности события, которые характеризуют прошлое нашего края:**

- а) Приазовье входит в состав Российской империи
- б) Дж. Юз строит металлургический комбинат
- в) образование Донецкой губернии
- г) основание города Соляное (Славянск)

**23. Установите последовательность абсолютных высот географических объектов нашего края:**

- а) Саур- Могила
- б) Могила Гончариха
- в) Могила- Острая
- г) горы Артема

**24. Укажите правильную последовательность расположения географических объектов от Гринвичского меридиана по направлению с запада на восток:**

- а) остров Шри-Ланка
- б) Большие Зондские острова
- в) остров Исландия
- г) остров Мадагаскар

**25. Установите последовательность водных объектов, которые будет проплывать путешественник вокруг Африки, если он начнет свое движение из Египта на восток:**

- а) Мозамбикский пролив
- б) Суэцкий канал
- в) Гибралтарский пролив
- г) Баб-эль-Мандебский пролив

**26. Установите последовательность географических объектов, которые встретит путешественник, если будет двигаться вдоль восточного побережья Евразии с севера на юг:**

- а) Восточно-Китайское море
- б) Берингово море
- в) о. Тайвань
- г) Японские о-ва

**27. Расположите ТЭС Донецкого края последовательно с севера на юг:**

- а) Зуевская
- б) Краматорская
- в) Старобешевская
- г) Углегорская

**28. Укажите правильную последовательность расположения природных зон Африки от экватора в направлении на север:**

- а) жестколистные вечнозеленые леса и кустарники
- б) влажные экваториальные леса
- в) полупустыни и пустыни
- г) саванны и редколесья

**29. Укажите правильную последовательность расположения вулканов в направлении с юга на север:**

- а) Везувий
- б) Гекла
- в) Кракатау
- г) Ключевская Сопка

**30. Укажите правильную последовательность расположения природных зон на территории Южной Америки в направлении от экватора на юг:**

- а) переменнно-влажные леса
- б) саванны и редколесья
- в) степи (пампа)
- г) влажные экваториальные леса

**31. Расположите продукцию цветной металлургии в последовательности: тугоплавкий – легкий – тяжелый – благородный:**

- а) ртуть
- б) золото
- в) хром
- г) магний

**32. Расставьте последовательно известных путешественников по хронологии их открытий:**

- а) Абель Тасман
- б) Марко Поло
- в) Джеймс Кук
- г) Христофор Колумб

**33. Расположите региональные ландшафтные парки Донецкого края в последовательности с севера на юг:**

- а) Клебан–Бык
- б) Меотида
- в) Зуевский
- г) Донецкий кряж

**34. Установите правильную последовательность, расставив данные территории Евразии по мере возрастания их высоты:**

- а) Западно-Сибирская равнина
- б) Восточно-Европейская равнина
- в) Урал
- г) Тибет

**35. Расположите почвенные горизонты в последовательности их залегания от нижнего к верхнему:**

- а) материнская порода
- б) гумусовый горизонт
- в) иллювиальный
- г) элювиальный

**36. Расположите районы Донецкого края в порядке увеличения в них удельного веса посевов технических культур:**

- а) Александровский
- б) Ясиноватский
- в) Шахтерский
- г) Великоновоселковский

**37. Установите последовательность событий в развитии биосферы:**

- а) господство пресмыкающихся и голосеменных растений
- б) конденсация воды и образование гидросферы
- в) господство млекопитающих и покрытосеменных растений
- г) господство морских беспозвоночных, рыб, земноводных и споровых растений

**38. Установите последовательность стран мира по уровню урбанизации в порядке возрастания:**

- а) Швеция
- б) Гонконг
- в) Польша
- г) Перу

**39. Установите последовательность пунктов плана географической характеристики материка:**

- а) основные формы рельефа материка
- б) природные зоны и закономерности их размещения
- в) общие особенности климата
- г) особенности физико-географического положения

**40. Расположите последовательность этапов металлургического производства**

- а) выплавка стали
- б) производство проката
- в) выплавка чугуна
- г) обогащение руды

**41. Установите последовательность периодов от самого древнего:**

- а) палеогеновый
- б) триасовый
- в) каменноугольный
- г) ордовикский

**42. Установите последовательность планов и карт по масштабу от наибольшего к наименьшему:**

- а) обзорно – топографические
- б) план местности
- в) обзорные
- г) топографические карты

**43. Расположите районы Донецкого края в последовательности с севера на юг:**

- а) Александровский
- б) Славянский
- в) Тельмановский
- г) Амвросиевский

- 44. Установите последовательность стран по показателю ИРЧП в порядке увеличения:**
- а) Норвегия
  - б) Россия
  - в) Франция
  - г) Египет
- 45. Установите правильную последовательность островов, двигаясь на восток от нулевого меридиана:**
- а) Шри-Ланка
  - б) Великобритания
  - в) Мадагаскар
  - г) Новая Зеландия
- 46. Установите правильную последовательность в порядке увеличения объема воды, содержащейся в предложенных частях гидросферы:**
- а) воды Мирового океана
  - б) поверхностные воды суши
  - в) подземные воды
  - г) горные и покровные ледники
- 47. Расположите географические объекты в порядке уменьшения величины среднегодового количества осадков:**
- а) Урзиф
  - б) Донецк
  - в) Краматорск
  - г) Мариуполь
- 48. Разместите названия рек мира в порядке уменьшения их длины:**
- а) Янцзы
  - б) Амазонка
  - в) Нил
  - г) Волга
- 49. Установите последовательность эпох горообразования от самой древней:**
- а) киммерийская
  - б) альпийская
  - в) герцинская
  - г) байкальская
- 50. Расположите названия стран в порядке уменьшения части занятых в непроизводительной сфере (%):**
- а) Багамские острова
  - б) Бразилия
  - в) Великобритания
  - г) КНДР
- 51. Установите последовательность карт по масштабу от самого крупного к самому мелкому:**
- а) в 1 см – 5,5 км
  - б) 1 : 60 000
  - в) в 1 мм – 500 м
  - г) в 1 см – 4000м

**52. Установите последовательность карт по масштабу от наибольшего к наименьшему:**

- а) в 1 см – 4,5 км
- б) 1 : 50 000
- в) в 1 мм – 400 м
- г) в 1 см – 3000м

**53. Расположите названия стран в порядке возрастания показателя лесистости:**

- а) Бразилия
- б) Канада
- в) Индонезия
- г) Россия

**54. Расположите центры металлургического комплекса в последовательности с юга на север:**

- а) Константиновка
- б) Донецк
- в) Мариуполь
- г) Краматорск

**55. Расположите названия стран в порядке уменьшения части занятых в непроизводственной сфере:**

- а) Багамские острова
- б) Бразилия
- в) Великобритания
- г) КНДР

**56. Установите хронологическую последовательность географических открытий:**

- а) открытие Дж. Куком Гавайских островов
- б) первое кругосветное путешествие экспедиции Фернана Магеллана
- в) открытие Антарктиды
- г) открытие морского пути из Европы в Индию

**57. Расположите названия городов в порядке наступления в них восхода Солнца в день весеннего равноденствия:**

- а) Мариуполь
- б) Торез
- в) Донецк
- г) Макеевка

**58. Расположите в хронологической последовательности от самого раннего известных краеведов, которые занимались изучением нашего края:**

- а) Е.Н. Кондратюк
- б) Н.А. Швец
- в) С.Л. Рудницкий
- г) В.Е. Графф

**59. Расположите названия озер мира в порядке увеличения их площадей:**

- а) Байкал
- б) Каспийское
- в) Ладожское
- г) Танганьика



**60. Разместите последовательно направления сторон горизонта в порядке увеличения азимута:**

- а) западный
- б) северо – западный
- в) северо – восточный
- г) юго-западный

**61. Расположите названия типов сельскохозяйственных угодий в порядке уменьшения части занимаемой ими площади на территории Донецкого края:**

- а) сенокосы
- б) сады и ягодники
- в) пашня
- г) пастбища

**62. Установите последовательность государств, соответственно к хронологии этапов формирования политической карты мира:**

- а) Ассирия
- б) Югославия
- в) Османская империя
- г) Киевская Русь

**63. Установите последовательность в цепочке взаимосвязанных явлений, которые характерны для экваториальных широт:**

- а) конденсация водяного пара
- б) формирование дождевых облаков
- в) высокая температура воздуха
- г) восходящие потоки воздуха

**64. Расположите стадии выплавки чёрных металлов в правильной последовательности:**

- а) обогащение руды
- б) производство ферросплавов
- в) добыча железной руды
- г) выплавка чугуна, стали

**65. Расположите последовательность европейских столиц по их удаленности от Гринвичского меридиана:**

- а) Будапешт
- б) Рейкьявик
- в) Брюссель
- г) Таллинн

**66. Укажите правильную последовательность в распространении характерных представителей животного мира природных зон Евразии в порядке с севера на юг:**

- а) лемминг, северный олень, песец
- б) тюлень, морж, белый медведь
- в) сайгак, джейран, скорпион
- г) тигр, орангутанг, леопард

**67. Расположите понятия, которые характеризуют один из этапов развития хозяйственной деятельности, в хронологической последовательности:**

- а) товарное хозяйство
- б) национальный хозяйственный комплекс
- в) натуральное хозяйство
- г) территориальное разделение труда

- 68. Разместите названия гор в порядке уменьшения их высоты:**
- а) Уральские горы
  - б) Пиренеи
  - в) Альпы
  - г) Кавказские горы
- 69. Установите последовательность океанических желобов в порядке увеличения их глубины:**
- а) Филиппинский желоб
  - б) Марианский желоб
  - в) Зондский желоб
  - г) желоб Пуэрто-Рика
- 70. Расположите реки Донецкого края в последовательности от наибольшей длины протекания территорией области к наименьшей:**
- а) Казенный Торец
  - б) Волчья
  - в) Северский Донец
  - г) Кальмиус
- 71. Расположите названия стран в порядке увеличения продолжительности жизни населения:**
- а) Россия
  - б) Австралия
  - в) Чад
  - г) Ботсвана
- 72. Расставьте слои атмосферы в порядке их следования от верхней границы атмосферы к земной поверхности.**
- а) мезосфера
  - б) стратосфера
  - в) тропосфера
  - г) ионосфера
- 73. Укажите правильную последовательность в расположении растительности в горах от подножия к вершинам:**
- а) альпийские луга
  - б) хвойная лесная растительность
  - в) криволесье и редколесье
  - г) лиственные леса
- 74. Установите последовательность событий от наиболее раннего:**
- а) возникновение города Бахмут (Артемовск)
  - б) город Сталино переименован в город Донецк
  - в) возникновение города Соляное (Славянск)
  - г) образование Донецкой области
- 75. Расположите элементы территориальной организации промышленности в порядке возрастания их размеров и значения:**
- а) промышленный район
  - б) промышленный пункт
  - в) промышленный узел
  - г) промышленный центр

**76. Установите последовательность действий при определении азимута по плану местности:**

- а) сориентировать компас по сторонам горизонта
- б) сориентировать план при помощи компаса: направление на север должно совпадать с северным направлением стрелки компаса
- в) определить азимут по шкале компаса
- г) установить компас в той точке плана, откуда необходимо определить азимут на определенный предмет

**77. Расставьте последовательно реки в порядке увеличения их длины:**

- а) Янцзы
- б) Волга
- в) Амазонка
- г) Конго

**78. Укажите правильную последовательность расположения природных зон Южной Америки в порядке уменьшения площади, которую они занимают на материке:**

- а) саванны и редколесье (кампус)
- б) полупустыни и пустыни
- в) влажные экваториальные леса (сельвас)
- г) субтропические степи (пампа)

**79. Разместите названия горных вершин в порядке увеличения их высот:**

- а) Джомолунгма
- б) Мак – Кинли
- в) Аконкагуа
- г) Монблан

**80. Расположите в правильной последовательности элементы схемы машиностроительного производства:**

- а) механический цех
- б) металлургический комбинат
- в) сборочный цех
- г) литейный цех

**81. Установите последовательность государств, в соответствии с хронологией этапов формирования политической карты мира:**

- а) Ассирия
- б) Югославия
- в) Османская империя
- г) Киевская Русь

**82. Расположите климатические пояса в порядке изменения их размещения от экватора к полюсам:**

- а) тропический
- б) субарктический
- в) субэкваториальный
- г) умеренный

**83. Установите группы национальностей в порядке уменьшения их доли в структуре населения нашего края:**

- а) евреи
- б) белорусы
- в) татары
- г) русские

**84. Установите последовательность стран по количеству занятых в сельском хозяйстве в порядке возрастания:**

- а) Великобритания
- б) Нигерия
- в) Польша
- г) Индия

**85. Расположите ТЭС Донецкого края в порядке уменьшения их производственной мощности:**

- а) Зуевская
- б) Кураховская
- в) Мироновская
- г) Углегорская

**86. Установите последовательность религий по количеству верующих:**

- а) ислам
- б) христианство
- в) буддизм
- г) синтоизм

**87. Расположите воздушные массы в последовательности возрастания температуры воздуха, которые для них характерны:**

- а) морской умеренный воздух зимой
- б) морской умеренный воздух летом
- в) континентальный умеренный воздух зимой
- г) континентальный умеренный воздух летом

**88. Возле берега косы Бирючий остров сорвался с якоря буй, на котором крепились предупреждения о запрете рыбной ловли. Установите последовательность акваторий Азовского моря, в которых этот буй дрейфует по течению:**

- а) Белосарайский залив
- б) Обиточный залив
- в) Таганрогский залив
- г) Бердянский залив

**89. Расположите имена известных краеведов, изучавших территорию Донбасса от самого раннего:**

- а) Нестор летописец
- б) Геродот
- в) Страбон
- г) Плиний Старший

**90. Восстановите последовательность пунктов плана характеристики отрасли промышленности:**

- а) размещение отрасли
- б) исторические условия развития
- в) отраслевой состав и продукция, которая производится
- г) производственные особенности

**91. Установите последовательность языков мира по количеству их носителей, начиная с наименьшего:**

- а) японский
- б) русский
- в) итальянский
- г) хинди

**92. Расставьте последовательность рек в порядке уменьшения площади материков, на которых они протекают:**

- а) Миссисипи
- б) Волга
- в) Амазонка
- г) Нил

**93. Установите последовательность в цепочке явлений, которые возникают в развивающихся странах:**

- а) безработица
- б) высокий прирост населения
- в) высокий уровень рождаемости
- г) избыток трудовых ресурсов

**94. Установите логическую последовательность в цепочке образований:**

- а) горная порода
- б) магма
- в) лава
- г) мантия

**95. Установите геохронологическую последовательность эр от самой молодой к самой древней:**

- а) протерозойская
- б) мезозойская
- в) кайнозойская
- г) палеозойская

**96. Разместите географические пояса в порядке возрастания количества природных зон, которые сформировались в пределах каждого пояса.**

- а) умеренный
- б) субэкваториальный
- в) тропический
- г) антарктический

**97. Укажите правильную последовательность расположения рек с севера на юг:**

- а) Енисей
- б) Нил
- в) Амазонка
- г) Муррей

**98. Установите последовательность островов по их удаленности от нулевого меридиана:**

- а) Шри-Ланка
- б) Великобритания
- в) Мадагаскар
- г) Новая Зеландия

**99. Расположите региональные ландшафтные парки Донецкого края в последовательности с севера на юг:**

- а) Клебан–Бык
- б) Меотида
- в) Зуевский
- г) Донецкий кряж

**100. Установите последовательность стран по количеству занятых (%) в сельском хозяйстве в порядке возрастания:**

- а) Великобритания
- б) Нигерия
- в) Польша
- г) Индия

**101. Расположите направления внутренних миграционных потоков в последовательности от большей части к наименьшей в общем объеме мигрантов Донецкого края:**

- а) из села в город
- б) между селами
- в) из города в сельскую местность
- г) из малых городов в большие

**102. Установите последовательность религий в порядке увеличения верующих:**

- а) ислам
- б) христианство
- в) буддизм
- г) синтоизм

**103. Разместите названия островов в порядке увеличения площади от наименьшего к наибольшему:**

- а) Мадагаскар
- б) Великобритания
- в) Гренландия
- г) Шри-Ланка

**104. Установите последовательность стран в порядке увеличения их по площади:**

- а) Бразилия
- б) Канада
- в) США
- г) Россия

**105. Установите в хронологической последовательности этапы географического познания Земли:**

- а) современная география
- б) география Античности
- в) Эпоха Великих географических открытий
- г) география раннего Средневековья

**106. Расположите почвенные горизонты в последовательности их залегания от самого нижнего к самому верхнему:**

- а) материнская порода
- б) гумусовый горизонт
- в) иллювиальный
- г) элювиальный

**107. Расположите последовательность европейских столиц по их удаленности от Гринвичского меридиана с запада на восток:**

- а) Берн
- б) Вена
- в) Париж
- г) Рига

**108. Установите последовательность городов Донецкого края в порядке увеличения численности населения в них:**

- а) Мариуполь
- б) Макеевка
- в) Енакиево
- г) Горловка

**109. Расположите стадии выплавки чёрных металлов в правильной последовательности от начальной до конечной стадии:**

- а) обогащение руды
- б) производство ферросплавов
- в) добыча железной руды
- г) выплавка чугуна, стали

**110. Установите последовательность в цепочке взаимосвязей между следующими явлениями, которые возникают в развивающихся странах:**

- а) безработица
- б) высокий прирост населения
- в) высокий уровень рождаемости
- г) избыток трудовых ресурсов

**111. Расположите названия стран в порядке увеличения средней продолжительности жизни населения:**

- а) Россия
- б) Австралия
- в) Чад
- г) Ботсвана

**112. Укажите правильную последовательность расположения природных зон с севера на юг на востоке Северной Америки:**

- а) тундра и лесотундра
- б) тайга
- в) арктические пустыни
- г) смешанные леса

**113. Расположите предприятия горного машиностроения в последовательности с севера на юг:**

- а) Краматорск
- б) Донецк
- в) Ясиноватая
- г) Дружковка

- 114. Расположите названия стран в порядке возрастания плотности населения:**
- а) Испания
  - б) Индия
  - в) Исландия
  - г) Индонезия
- 115. Школьники отправились на экскурсию «Промышленные предприятия нашего края» Маршрут путешествия пролегает с юга на север. Разместите указанные предприятия, согласно заданному маршруту:**
- а) Кураховская ТЭС
  - б) НКМЗ (г. Краматорск)
  - в) Дружковский фарфоровый завод
  - г) «Азовсталь» (г. Мариуполь)
- 116. Расположите последовательно макрорегионы мира в порядке уменьшения количества населения:**
- а) Африка
  - б) Азия
  - в) Европа
  - г) Австралия и Океания
- 117. Укажите правильную последовательность расположения горных систем с востока на запад от 180-го меридиана:**
- а) Анды
  - б) Гималаи
  - в) Пиренеи
  - г) Аппалачи
- 118. Расположите климатические области умеренного пояса Евразии с востока на запад:**
- а) континентальная
  - б) муссонная
  - в) умеренно – континентальная
  - г) морская
- 119. Туристы, путешествуя на автомобиле, задумали посетить историко-культурные объекты нашего края. Разместите указанные объекты последовательно с севера на юг:**
- а) региональный ландшафтный парк «Меотида»
  - б) Саур-могила
  - в) музей Великоанадольского леса
  - г) Святогорский пещерный монастырь
- 120. Расположите последовательно по численности населенные пункты нашего края от наименьшего к наибольшему показателю:**
- а) Красный Лиман
  - б) Мариуполь
  - в) Донецк
  - г) Торез



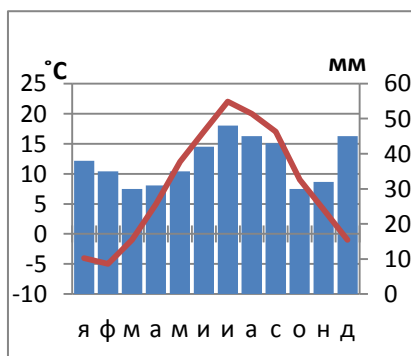
- 121. Установите последовательность расположения стран Азии с запада на восток:**
- а) Иран
  - б) Таиланд
  - в) Пакистан
  - г) Израиль
- 122. Расположите климатические пояса в порядке изменения их от экватора к полюсам:**
- а) тропический
  - б) субарктический
  - в) субэкваториальный
  - г) умеренный
- 123. Расположите районы Донецкого края в соответствии с возрастанием их площади территории:**
- а) Амвросиевский
  - б) Волновахский
  - в) Старобешевский
  - г) Новоазовский
- 124. Установите последовательность стран в порядке возрастания площади их территории:**
- а) Бразилия
  - б) Канада
  - в) США
  - г) Россия
- 125. Установите последовательность стран (от наибольшей) по запасам природного газа:**
- а) ОАЭ
  - б) США
  - в) Нидерланды
  - г) Россия
- 126. Установите последовательность в цепочке взаимосвязанных явлений,(от первого этапа к последнему), которые характерны для экваториальных широт:**
- а) формирование дождевых облаков
  - б) конденсация водяного пара
  - в) высокая температура воздуха
  - г) восходящие потоки воздуха
- 127. Установите последовательность периодов геологических эр от самого древнего:**
- а) палеогеновый
  - б) триасовый
  - в) каменноугольный
  - г) ордовикский

**128. Установите последовательность видов транспорта по объему грузооборота в мировой транспортной системе (от наибольшего):**

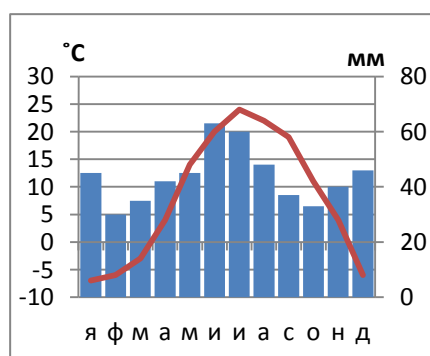
- а) железнодорожный
- б) автомобильный
- в) морской
- г) трубопроводный

**129. Расставьте климатограммы городов Донецкого края последовательно с севера на юг:**

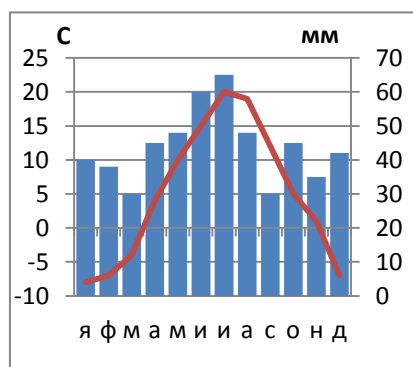
а)



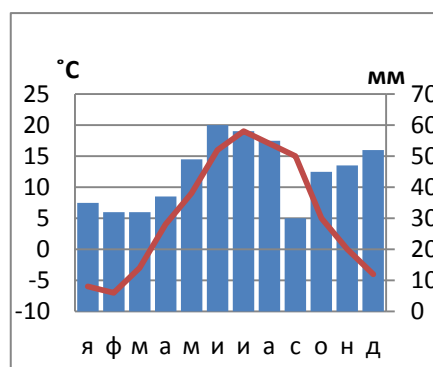
б)



в)



г)



**130. Разместите географические пояса в порядке возрастания количества природных зон, Укажите правильную последовательность расположения рек с севера на юг:**

- а) Енисей
- б) Нил
- в) Амазонка
- г) Муррей

**131. Установите геохронологическую последовательность эр от самой молодой до самой древней:**

- а) протерозойская
- б) мезозойская
- в) кайнозойская
- г) палеозойская

**132. Установите хронологическую последовательность географических путешествий:**

- а) первое кругосветное путешествие экспедиции Фернана Магеллана
- б) плавание Бартоломеу Диаша вдоль юго-западных берегов Африки
- в) путешествие Афанасия Никитина из России в Индию
- г) морского пути из Европы в Индию

**133. Расположите периоды геологической истории, начиная с самого раннего в истории развития Земли:**

- а) меловой
- б) триасовый
- в) девонский
- г) ордовикский

**134. Установите последовательность стран, с которыми Россия граничит на юге, начиная данную последовательность с востока на запад:**

- а) Казахстан
- б) Азербайджан
- в) Грузия
- г) Южная Осетия

**135. Установите последовательность размещения с запада на восток субъектов Российской Федерации:**

- а) Республика Саха
- б) Республика Коми
- в) Республика Карелия
- г) Республика Алтай

**136. Расположите страны мира, обладающие наибольшими запасами природного газа, в порядке уменьшения разведанных запасов данного ресурса на их территории:**

- а) Ирак
- б) Катар
- в) Россия
- г) Китай

**137. Установите последовательность тектоно–магматических эпох от самой ранней:**

- а) киммерийская
- б) альпийская
- в) герцинская
- г) байкальская

**138. Установите последовательность в цепочке взаимосвязанных явлений (от первого этапа к последнему), которые характерны для экваториальных широт:**

- а) формирование дождевых облаков
- б) конденсация водяного пара
- в) высокая температура воздуха
- г) восходящие потоки воздуха

**139. Расположите названия островов в порядке уменьшения их площади:**

- а) Мадагаскар
- б) Великобритания
- в) Новая Гвинея
- г) Сахалин

**140. Установите последовательность типового плана характеристики страны:**

- а) особенности рельефа, полезные ископаемые
- б) основные экологические проблемы
- в) природные зоны и их основные особенности
- г) климатические условия в разных частях страны

**141. Расположите прямоугольные координаты точек в порядке увеличения их удаленности от экватора:**

- а) точка А ( $x= 6068650$   $y=4313725$ )
- б) точка Б ( $x= 6067150$   $y= 4310300$ )
- в) точка В ( $x= 6065400$   $y= 4312600$ )
- г) точка Г ( $x= 6066250$   $y= 4312650$ )

**142. Расположите в хронологической последовательности события, которые характеризуют процесс формирования политической карты мира:**

- а) формирование феодальных государств (Киевская Русь, Испания, Португалия, Англия, Франция)
- б) распад Российской, Турецко-Османской, Австро-Венгерской империй.
- в) формирование первых государств и империй (Древний Египет, Месопотамия, Древняя Индия, Древний Китай)
- г) распад колониальных империй и образования суверенных государств в Азии, Африке, Океании.